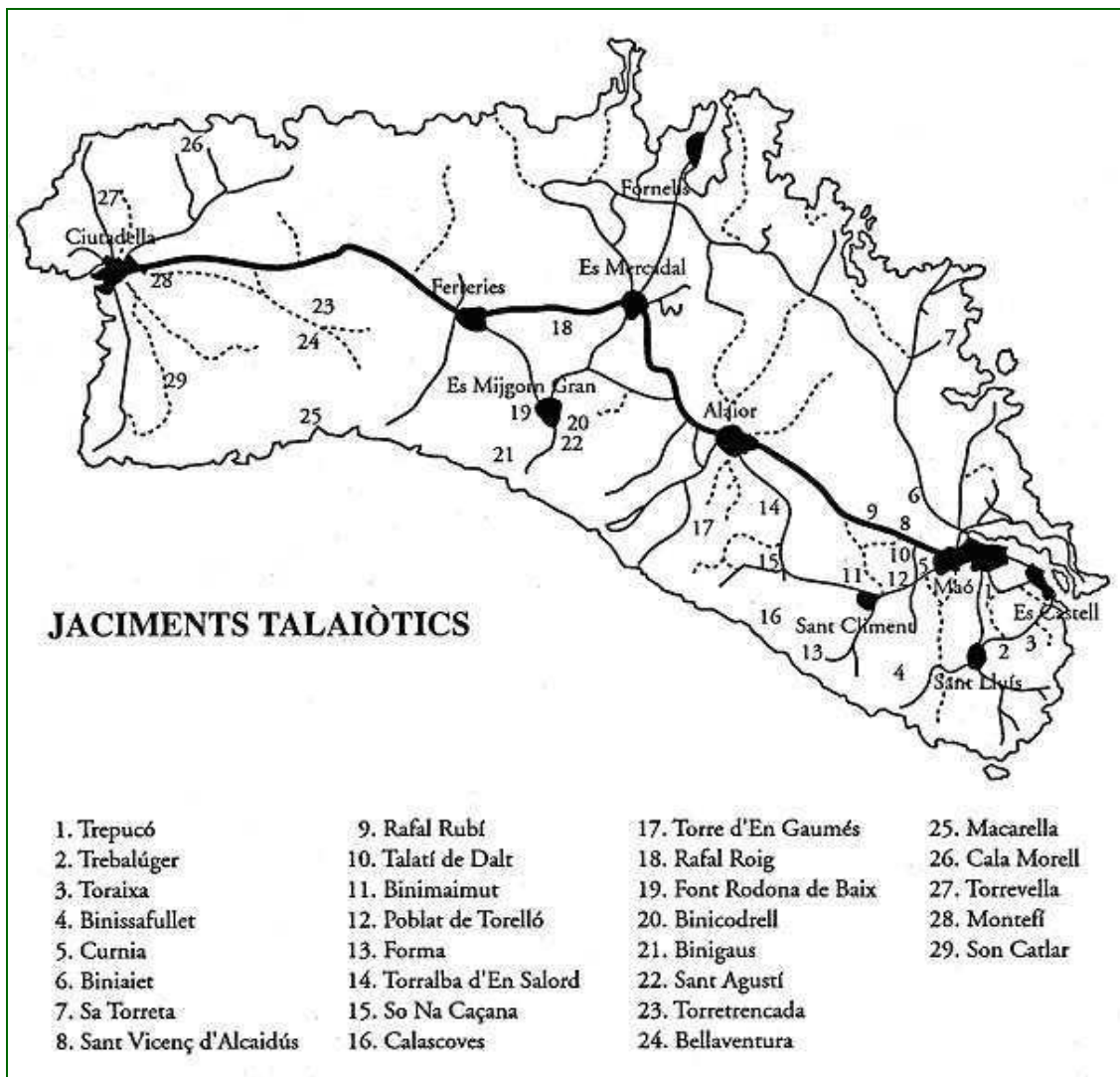


Assenyala sobre el mapa la situació del poblat i el recorregut que has fet per arribar-hi.



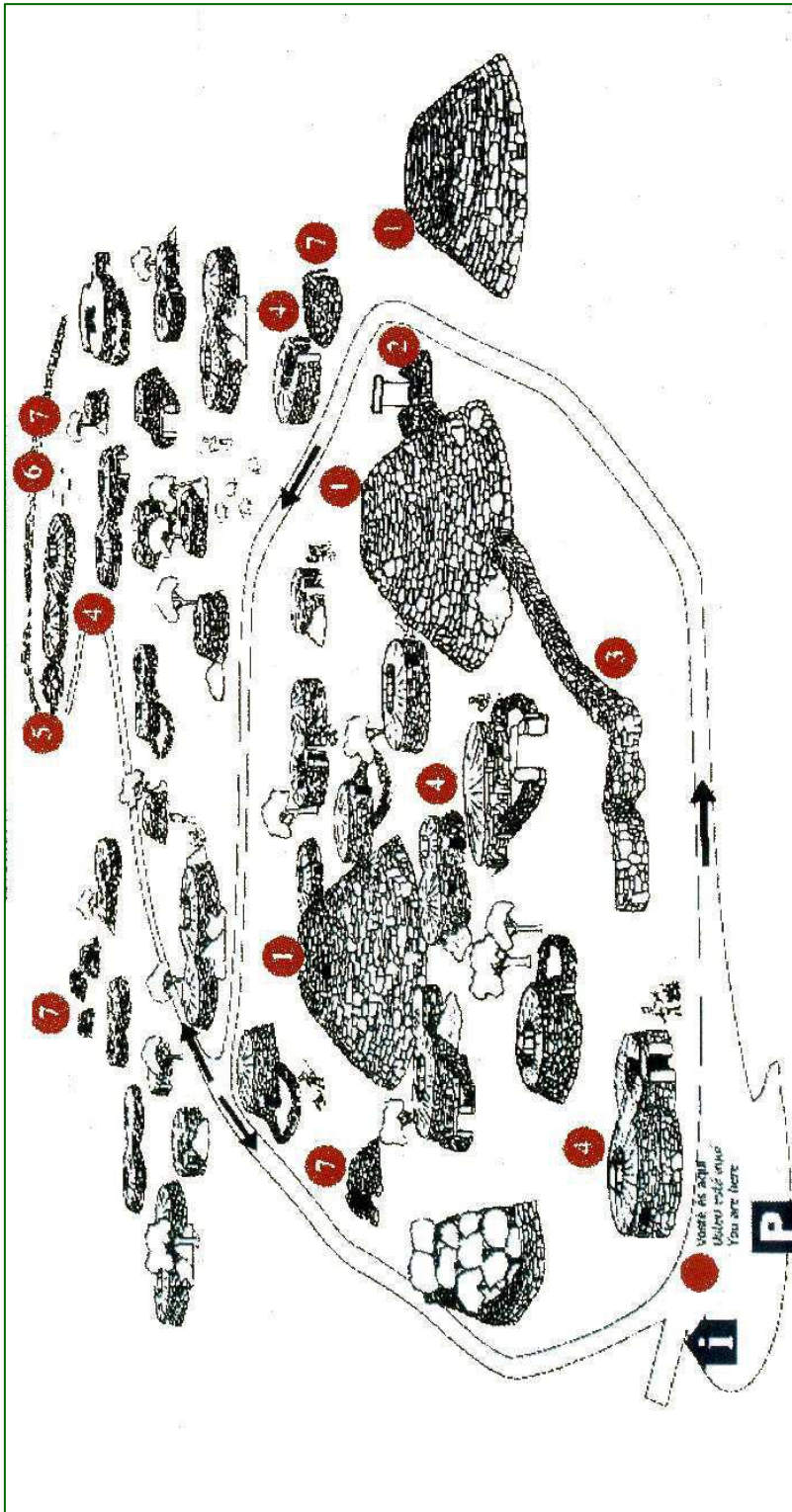
Orienta el mapa amb l'ajuda de la brúixola, i identifica elements del paisatge que observes des del poblat.

Coneixes altres jaciments talaiòtics de l'illa?

Quins?

ELEMENTS

Segueix el recorregut assenyalat sobre el plànol i tracta d'identificar quins edificis serien les restes de construccions que observes.



Recompte de possibles construccions:

Talaiots

Muralles

Sales hipòstiles

Hipogeus

Recintes de taula


Cases

Altres

Tria un dels edificis observats que t'hagi cridat l'atenció i dibuixa:



L'exterior



La planta

Nom de l'edificació:

Dimensions aproximades. Alçada: Amplària: Llargada:

Situació dins el poblat:

Orientació de l'entrada:

Funció que tenia:

Indicis que et fan creure aquesta funció:

Estat actual de conservació:

Raons que justifiquin la necessitat de conservar l'edificació:

Accions que emprendries per ajudar a la conservació:

LES CISTERNES

Tracta de fer un esquema del conjunt de cisternes per a la recollida comunal d'aigua de Torre d'en Galmés



Explica el sistema de decantació d'aigües

